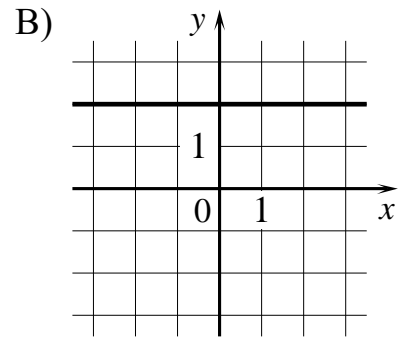
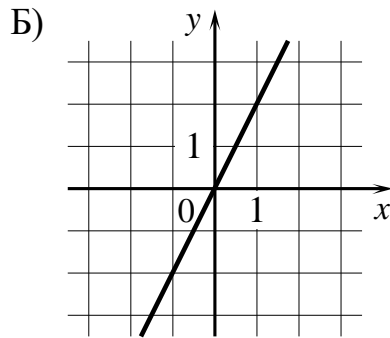
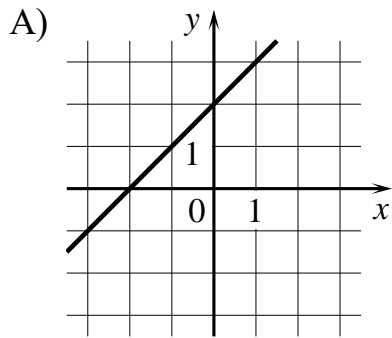


1 Установите соответствие между графиками функций и формулами, которые их задают.

ГРАФИКИ



ФОРМУЛЫ

1) $y = 2x$

2) $y = x + 2$

3) $y = 2$

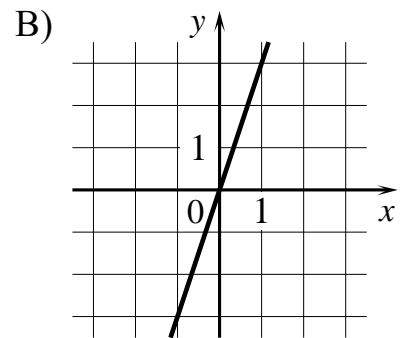
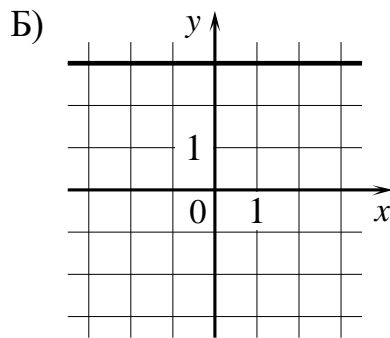
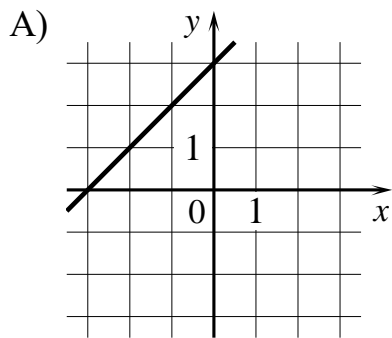
В таблице под каждой буквой укажите соответствующий номер.

Ответ:

А	Б	В

2 Установите соответствие между графиками функций и формулами, которые их задают.

ГРАФИКИ



ФОРМУЛЫ

1) $y = x + 3$

2) $y = 3$

3) $y = 3x$

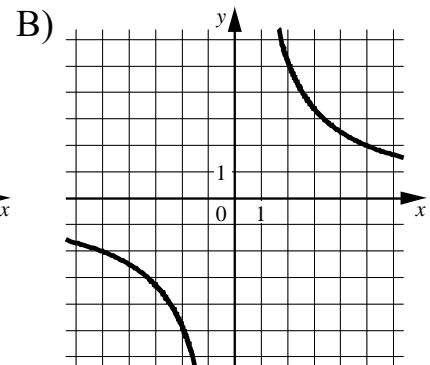
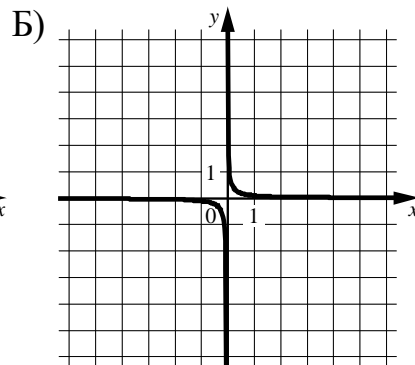
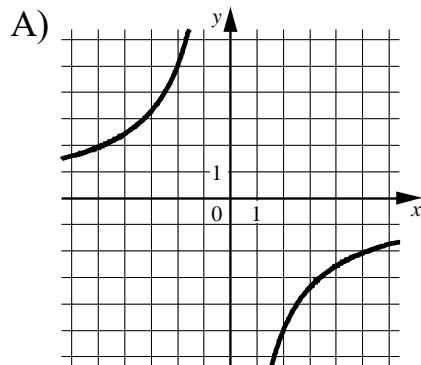
В таблице под каждой буквой укажите соответствующий номер.

Ответ:

А	Б	В

3 Установите соответствие между графиками функций и формулами, которые их задают.

ГРАФИКИ



ФОРМУЛЫ

1) $y = \frac{10}{x}$

2) $y = -\frac{10}{x}$

3) $y = \frac{1}{10x}$

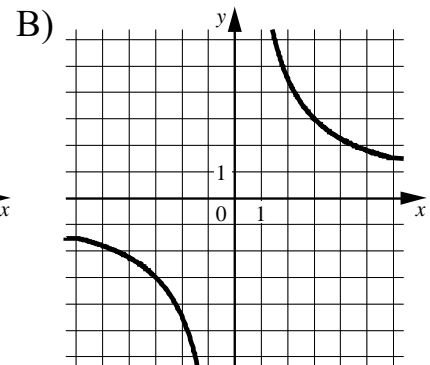
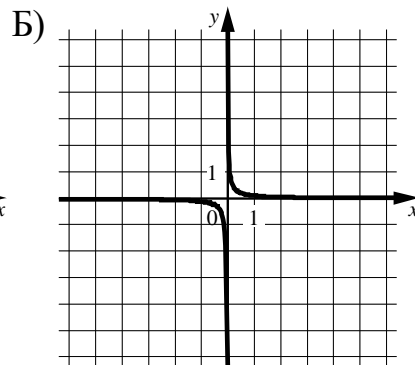
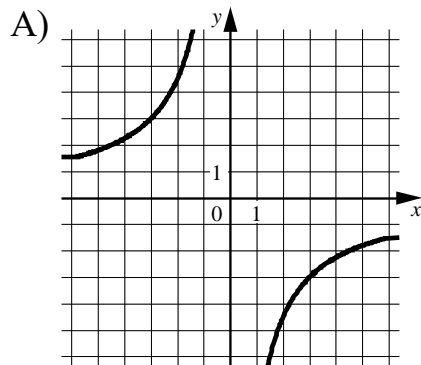
В таблице под каждой буквой укажите соответствующий номер.

Ответ:

А	Б	В

4 Установите соответствие между графиками функций и формулами, которые их задают.

ГРАФИКИ



ФОРМУЛЫ

1) $y = \frac{1}{9x}$

2) $y = \frac{9}{x}$

3) $y = -\frac{9}{x}$

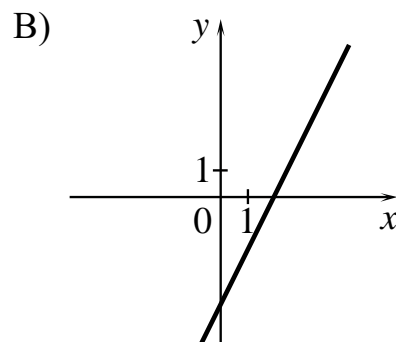
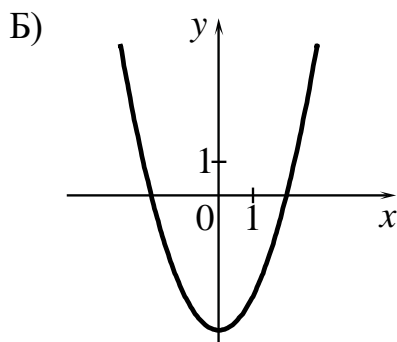
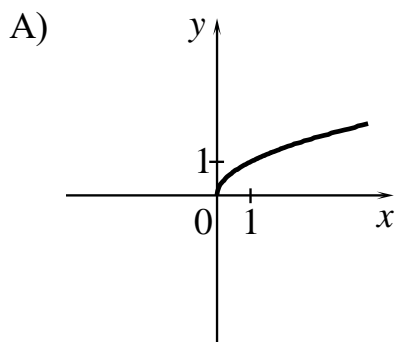
В таблице под каждой буквой укажите соответствующий номер.

Ответ:

А	Б	В

5 Установите соответствие между графиками функций и формулами, которые их задают.

ГРАФИКИ



ФОРМУЛЫ

1) $y = \sqrt{x}$

2) $y = 2x - 4$

3) $y = x^2 - 4$

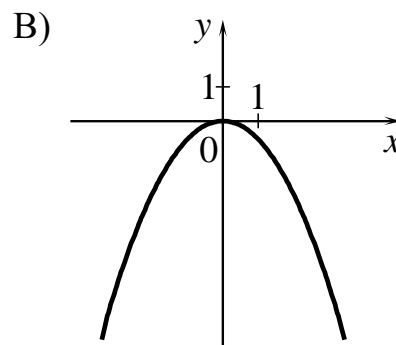
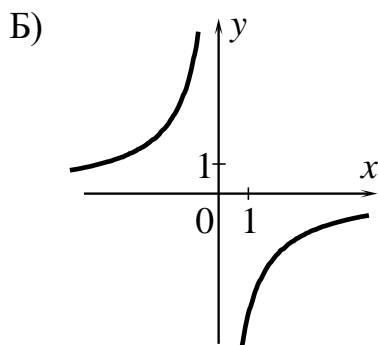
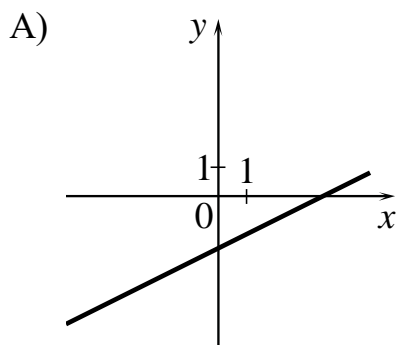
В таблице под каждой буквой укажите соответствующий номер.

Ответ:

А	Б	В

6 Установите соответствие между графиками функций и формулами, которые их задают.

ГРАФИКИ



ФОРМУЛЫ

1) $y = -\frac{6}{x}$

2) $y = -\frac{1}{2}x^2$

3) $y = \frac{1}{2}x - 2$

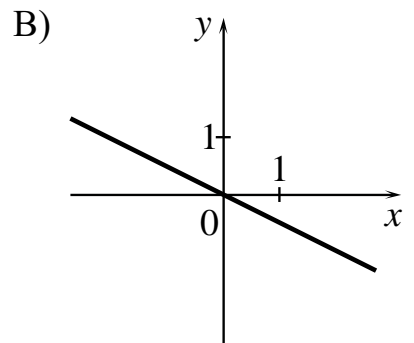
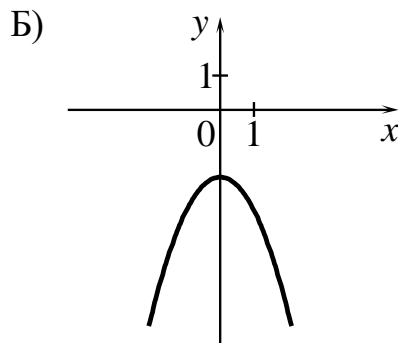
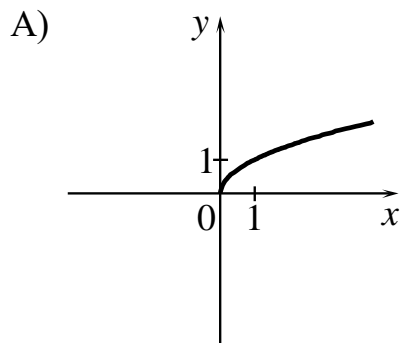
В таблице под каждой буквой укажите соответствующий номер.

Ответ:

А	Б	В

7 Установите соответствие между графиками функций и формулами, которые их задают.

ГРАФИКИ



ФОРМУЛЫ

1) $y = -\frac{1}{2}x$

2) $y = -x^2 - 2$

3) $y = \sqrt{x}$

В таблице под каждой буквой укажите соответствующий номер.

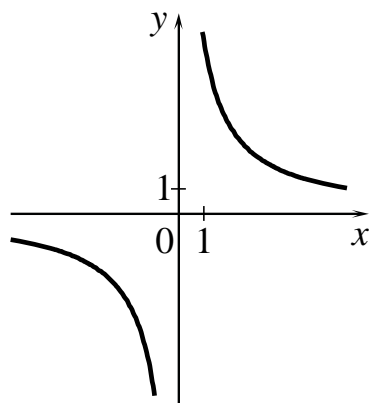
Ответ:

A	Б	В

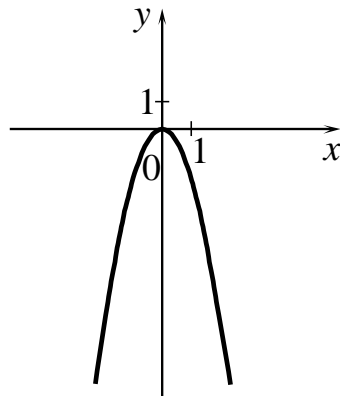
8 Установите соответствие между графиками функций и формулами, которые их задают.

ГРАФИКИ

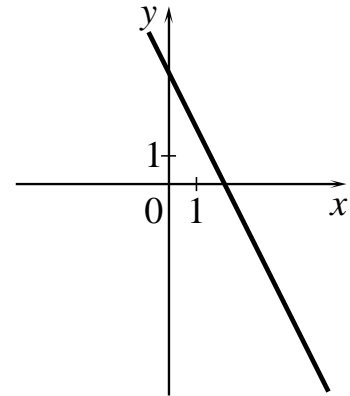
А)



Б)



В)



ФОРМУЛЫ

1) $y = \frac{6}{x}$

2) $y = -2x + 4$

3) $y = -2x^2$

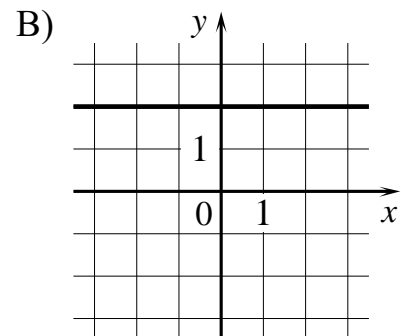
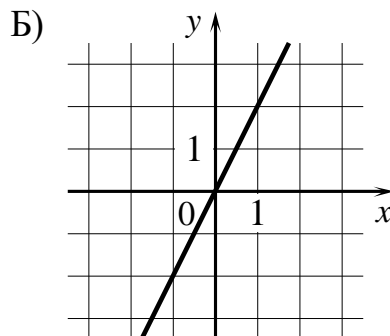
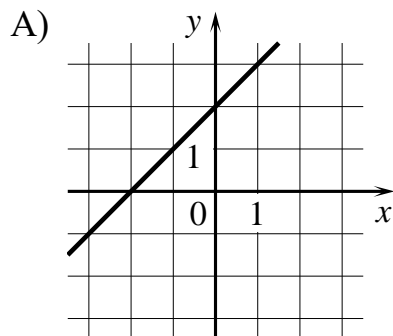
В таблице под каждой буквой укажите соответствующий номер.

Ответ:

А	Б	В

9 Установите соответствие между графиками функций и формулами, которые их задают.

ГРАФИКИ



ФОРМУЛЫ

1) $y = 2x$

2) $y = x + 2$

3) $y = 2$

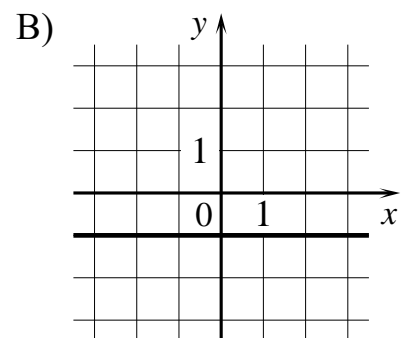
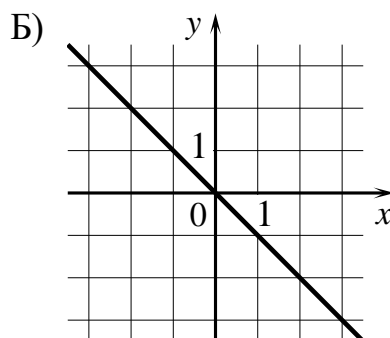
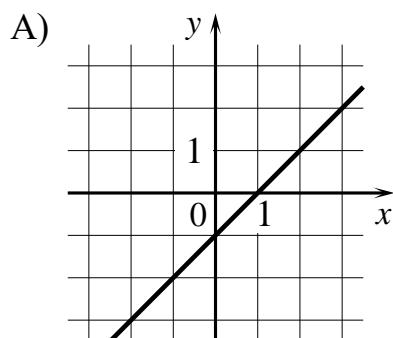
В таблице под каждой буквой укажите соответствующий номер.

Ответ:

А	Б	В

10 Установите соответствие между графиками функций и формулами, которые их задают.

ГРАФИКИ



ФОРМУЛЫ

1) $y = -x$

2) $y = -1$

3) $y = x - 1$

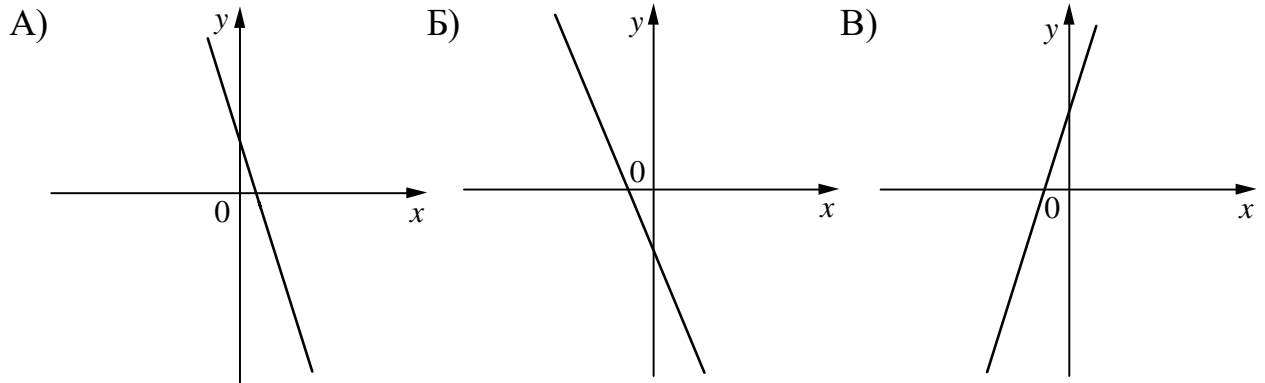
В таблице под каждой буквой укажите соответствующий номер.

Ответ:

А	Б	В

11 На рисунках изображены графики функций вида $y = kx + b$. Установите соответствие между графиками функций и знаками коэффициентов k и b .

ГРАФИКИ



КОЭФФИЦИЕНТЫ

- 1) $k < 0, b < 0$ 2) $k > 0, b > 0$ 3) $k < 0, b > 0$

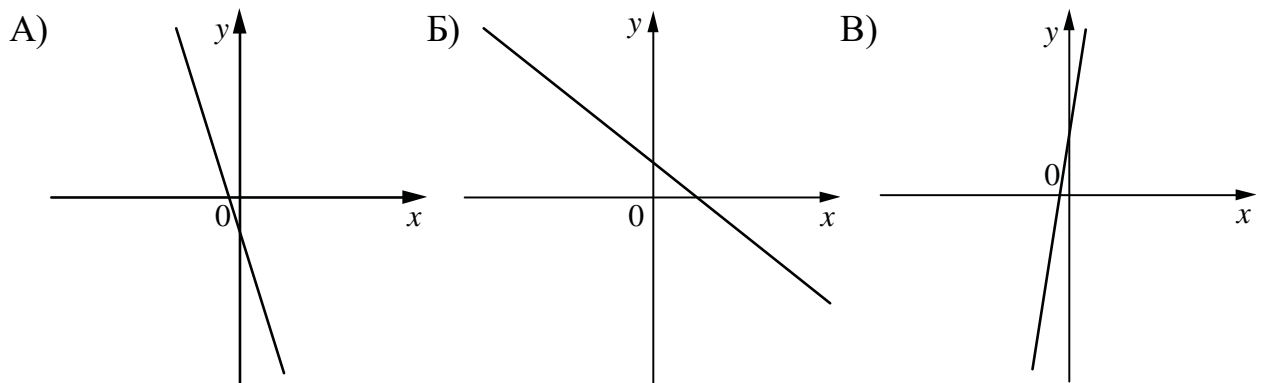
В таблице под каждой буквой укажите соответствующий номер.

Ответ:

А	Б	В

12 На рисунках изображены графики функций вида $y = kx + b$. Установите соответствие между графиками функций и знаками коэффициентов k и b .

ГРАФИКИ



КОЭФФИЦИЕНТЫ

- 1) $k < 0, b > 0$ 2) $k < 0, b < 0$ 3) $k > 0, b > 0$

В таблице под каждой буквой укажите соответствующий номер.

Ответ:

А	Б	В

13 На рисунках изображены графики функций вида $y = kx + b$. Установите соответствие между знаками коэффициентов k и b и графиками функций.

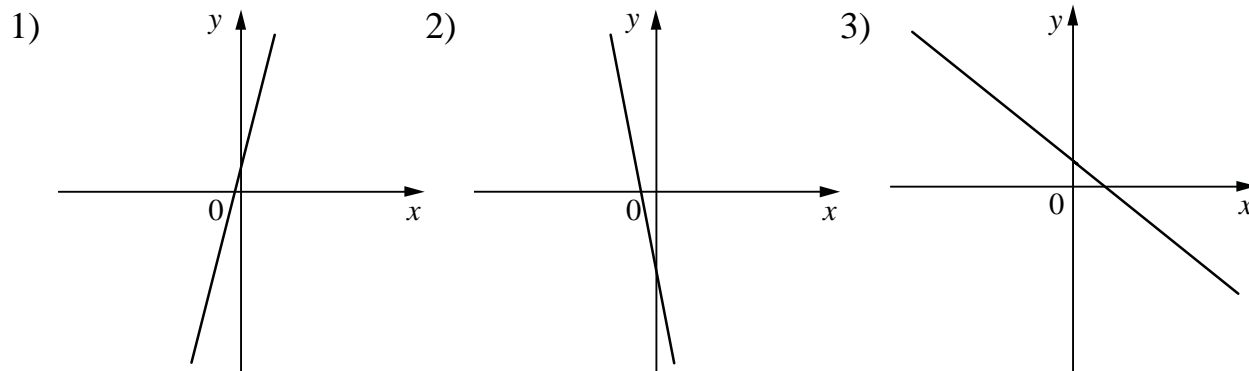
КОЭФФИЦИЕНТЫ

А) $k < 0, b < 0$

Б) $k < 0, b > 0$

В) $k > 0, b > 0$

ГРАФИКИ



В таблице под каждой буквой укажите соответствующий номер.

Ответ:

А	Б	В

14 На рисунках изображены графики функций вида $y = kx + b$. Установите соответствие между знаками коэффициентов k и b и графиками функций.

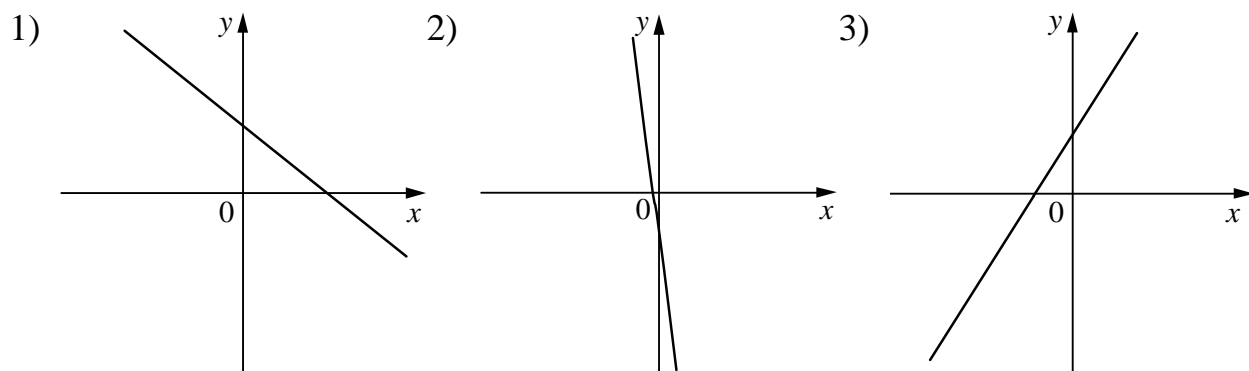
КОЭФФИЦИЕНТЫ

А) $k > 0, b > 0$

Б) $k < 0, b > 0$

В) $k < 0, b < 0$

ГРАФИКИ



В таблице под каждой буквой укажите соответствующий номер.

Ответ:

А	Б	В

15 На рисунках изображены графики функций вида $y = ax^2 + bx + c$. Установите соответствие между знаками коэффициентов a и c и графиками функций.

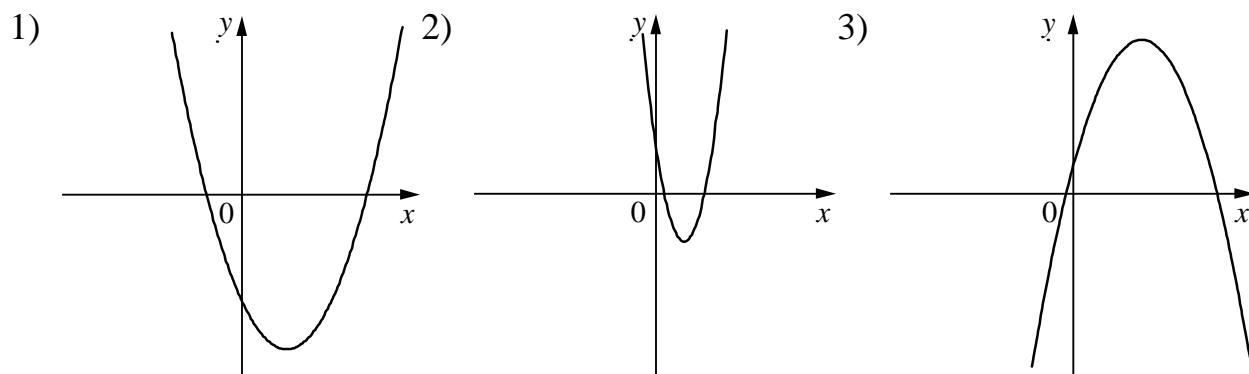
КОЭФФИЦИЕНТЫ

А) $a > 0, c < 0$

Б) $a > 0, c > 0$

В) $a < 0, c > 0$

ГРАФИКИ



В таблице под каждой буквой укажите соответствующий номер.

Ответ:

А	Б	В

16 На рисунках изображены графики функций вида $y = ax^2 + bx + c$. Установите соответствие между знаками коэффициентов a и c и графиками функций.

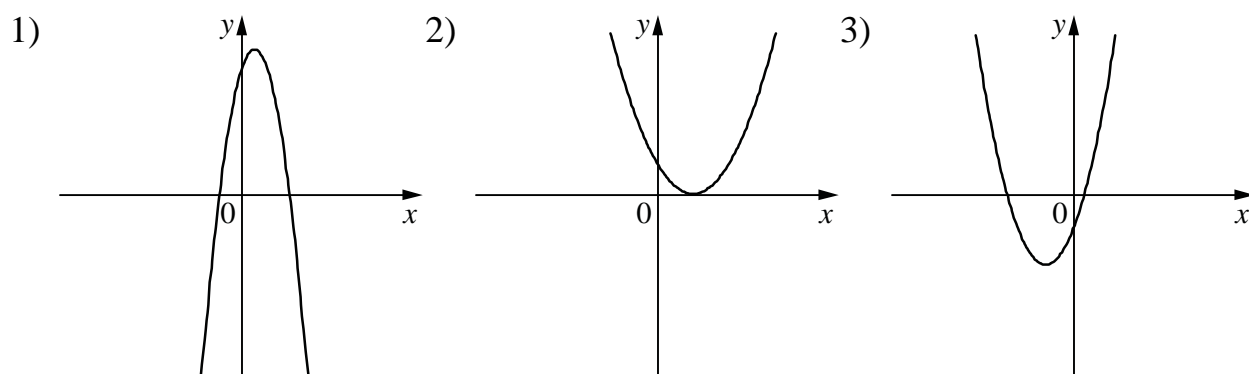
КОЭФФИЦИЕНТЫ

А) $a > 0, c < 0$

Б) $a < 0, c > 0$

В) $a > 0, c > 0$

ГРАФИКИ



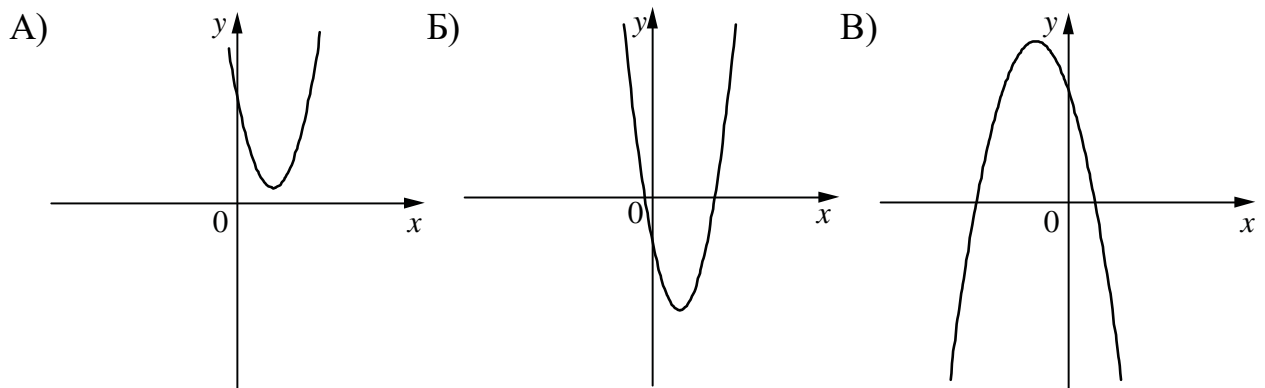
В таблице под каждой буквой укажите соответствующий номер.

Ответ:

А	Б	В

17 На рисунках изображены графики функций вида $y = ax^2 + bx + c$. Установите соответствие между графиками функций и знаками коэффициентов a и c .

ГРАФИКИ



КОЭФФИЦИЕНТЫ

- 1) $a < 0, c > 0$ 2) $a > 0, c < 0$ 3) $a > 0, c > 0$

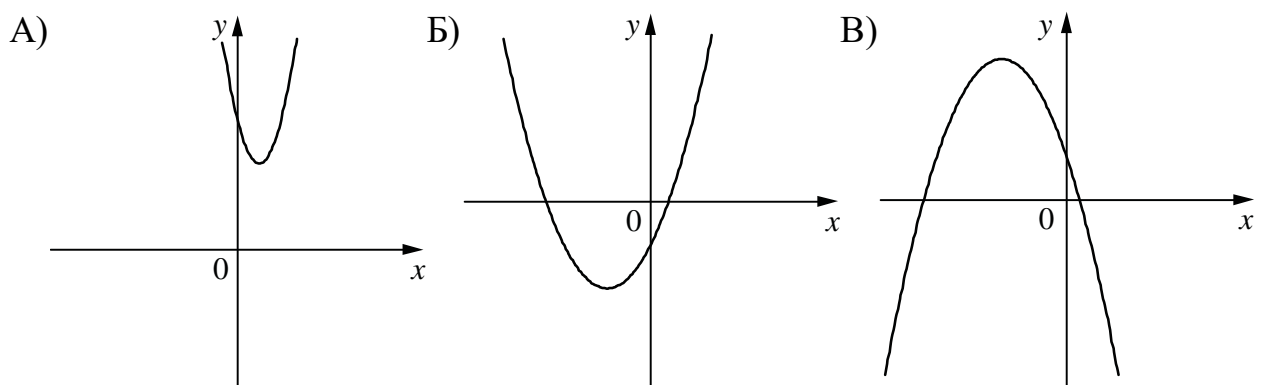
В таблице под каждой буквой укажите соответствующий номер.

Ответ:

А	Б	В

18 На рисунках изображены графики функций вида $y = ax^2 + bx + c$. Установите соответствие между графиками функций и знаками коэффициентов a и c .

ГРАФИКИ



КОЭФФИЦИЕНТЫ

- 1) $a > 0, c < 0$ 2) $a < 0, c > 0$ 3) $a > 0, c > 0$

В таблице под каждой буквой укажите соответствующий номер.

Ответ:

А	Б	В